

INSTITUT FOR DATALOGI, AARHUS UNIVERSITET

| |
|---|
| Det Naturvidenskabelige Fakultet |
| EKSAMEN |
| Grundkurser i Datalogi |
| Algoritmer og Datastrukturer 1 (2003-ordning) |
| Antal sider i opgavesættet (incl. forsiden): 12 (tolv) |
| Eksamensdag: Onsdag den 19. marts 2014, kl. 9.00-11.00 |
| Tilladte medbragte hjælpemidler: Alle sædvanlige hjælpemidler (lærebøger og notater). Computer må ikke medbringes. |
| Materiale der udleveres til eksaminanden: |

Årskort _____

Navn _____

Skriftlig Eksamen
Algoritmer og Datastrukturer 1 (2003-ordning)

Institut for Datalogi
Aarhus Universitet

Onsdag den 19. marts 2014, kl. 9.00-11.00

Dette eksamenssæt består af en kombination af små skriftlige opgaver og multiple-choice-opgaver. Opgaverne besvares på opgaveformuleringen **som afleveres**.

For hver opgave er angivet opgavens andel af det samlede eksamenssæt.

For multiple-choice-opgaver gælder følgende. Hvert delspørgsmål har præcist et svar. For hvert delspørgsmål, kan du vælge ét svar ved at afkrydse den tilsvarende rubrik. Et multiple-choice-delspørgsmål bedømmes som følgende:

- Hvis du sætter kryds ved det rigtige svar, får du 1 point.
- Hvis du ikke sætter nogen krydser, får du 0 point.
- Hvis du sætter kryds ved et forkert svar, får du $-\frac{1}{k-1}$ point, hvor k er antal svarmuligheder.

For en multiple-choice-opgave med vægt $v\%$ og med n delspørgsmål, hvor du opnår samlet s point, beregnes din besvarelse af multiple-choice-opgaven som:

$$\max \left\{ 0, \frac{s}{n} \right\} \cdot v \%$$

Opgave 1 (4%)

| | Ja | Nej |
|--------------------------------|--------------------------|--------------------------|
| n^2 er $O(\frac{1}{2}n^4)$? | <input type="checkbox"/> | <input type="checkbox"/> |
| \sqrt{n} er $O(\log^7 n)$? | <input type="checkbox"/> | <input type="checkbox"/> |
| 2^n er $O(n^4)$? | <input type="checkbox"/> | <input type="checkbox"/> |
| $3n^2 + 47$ er $O(60n)$? | <input type="checkbox"/> | <input type="checkbox"/> |
| $n \log n$ er $O(n^{3/2})$? | <input type="checkbox"/> | <input type="checkbox"/> |

Opgave 2 (4%)

Opskriv følgende funktioner efter stigende orden med hensyn til O -notationen:

$n \log n$
 $2^{\frac{1}{2} \log n}$
 $(\log n)^7$
 $(3/2)^n$
 $n + \log n$

Svar: _____

Opgave 3 (4%)

Nedenstående spørgsmål vedrører Randomized Quicksort på input af størrelse n .

| | $\Theta(n)$ | $\Theta(n \log n)$ | $\Theta(n^2)$ |
|--|--------------------------|--------------------------|--------------------------|
| Worst-case antal kald til Partition proceduren | <input type="checkbox"/> | <input type="checkbox"/> | <input type="checkbox"/> |
| Forventede antal kald til Partition proceduren | <input type="checkbox"/> | <input type="checkbox"/> | <input type="checkbox"/> |
| Worst-case tid for Randomized Quicksort | <input type="checkbox"/> | <input type="checkbox"/> | <input type="checkbox"/> |
| Forventede tid for Randomized Quicksort | <input type="checkbox"/> | <input type="checkbox"/> | <input type="checkbox"/> |

Opgave 4 (4%)

Angiv for hver af nedenstående algoritmer udførelstiden som funktion af n i O -notation.

Algoritme Loop1(n)

```
 $i = 1$   
while  $i \leq n$   
     $i = 3 * i$ 
```

Algoritme Loop2(n)

```
 $i = 0$   
while  $i \leq n$   
     $j = 0$   
    while  $j \leq i$   
         $j = j + 1$   
     $i = i + 1$ 
```

Algoritme Loop3(n)

```
 $s = 0$   
 $i = 0$   
while  $s \leq n$   
     $s = s + i$   
     $i = i + 1$ 
```

Svar Loop1: _____

Svar Loop2: _____

Svar Loop3: _____

Opgave 5 (4%)

Angiv for hver af nedenstående algoritmer udførelstiden som funktion af n i O -notation.

Algoritme Loop1(n)

```
 $i = 1$   
while  $i \leq n$   
     $j = 1$   
    while  $j \leq i$   
         $j = j * 2$   
     $i = i * 2$ 
```

Algoritme Loop2(n)

```
for  $i = 0$  to  $n$   
     $j = 0$   
     $s = 0$   
    while  $s \leq i$   
         $j = j + 1$   
         $s = s + j$ 
```

Algoritme Loop3(n)

```
 $i = 0$   
 $s = 0$   
 $q = 0$   
while  $q \leq n$   
     $i = i + 1$   
     $s = s + i$   
     $q = q + s$ 
```

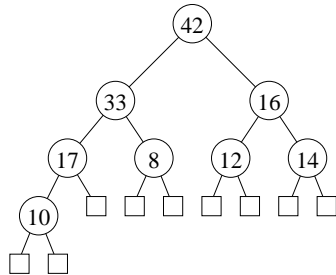
Svar Loop1: _____

Svar Loop2: _____

Svar Loop3: _____

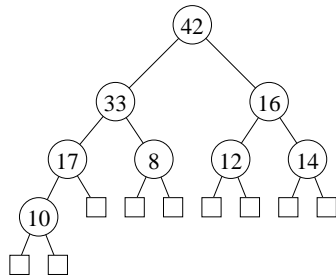
Opgave 6 (4%)

Tegn hvordan nedenstående binære max-heap ser ud efter indsættelse af elementet 37.



Svar: _____

Tegn hvordan nedenstående binære max-heap ser ud efter en HEAP-EXTRACT-MAX operation.



Svar: _____

Opgave 7 (4%)

Tegn den binære max-heap efter indsættelse af elementerne 5, 1, 7, 2, 6, 4 og 9 i den givne rækkefølge, startende med den tomme heap.

Svar: _____

Opgave 8 (4%)

Angiv hvordan nedenstående array ser ud efter anvendelsen af BUILD-MAX-HEAP for arrayet.

| 1 | 2 | 3 | 4 | 5 | 6 | 7 | 8 | 9 | 10 |
|---|---|---|---|---|---|---|----|---|----|
| 2 | 1 | 4 | 3 | 6 | 5 | 7 | 10 | 8 | 9 |

Svar: _____

Opgave 9 (4%)

Betragt RADIX-SORT anvendt på nedenstående liste af tal ($d = 5, k = 5$). Angiv den delvist sorterede liste efter at radix-sort har sorteret tallene efter de *tre* mindst betydende cifre.

21224 54123 43123 10224 32123

Svar: _____

Opgave 10 (4%)

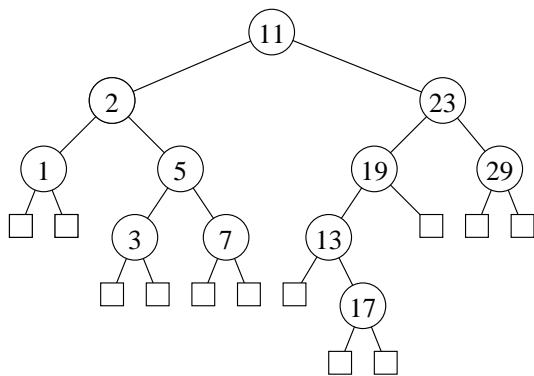
Angiv resultatet af at anvende PARTITION($A,2,14$) på nedenstående array.

| | 1 | 2 | 3 | 4 | 5 | 6 | 7 | 8 | 9 | 10 | 11 | 12 | 13 | 14 | 15 |
|---|---|----|---|----|---|----|---|----|---|----|----|----|----|----|----|
| A | 1 | 16 | 2 | 15 | 3 | 14 | 4 | 13 | 5 | 12 | 6 | 11 | 7 | 9 | 10 |

Svar: _____

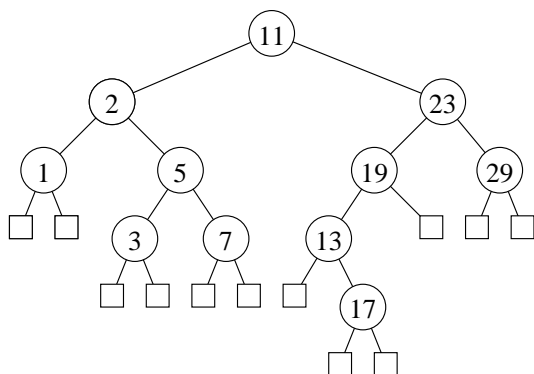
Opgave 11 (4%)

Tegn hvordan nedenstående ubalancerede binære søgetræ ser ud efter indsættelse af elementet 12.



Svar: _____

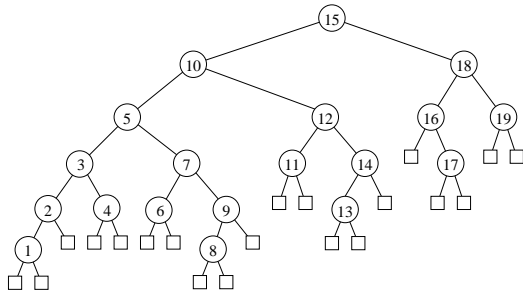
Tegn hvordan nedenstående ubalancerede binære søgetræ ser ud efter slettelse af elementet 11.



Svar: _____

Opgave 12 (4%)

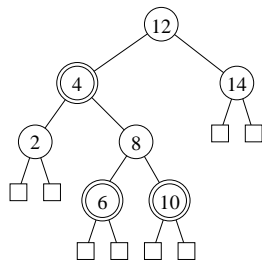
Angiv hvorledes knuderne i nedenstående binære søgetræ kan farves røde og sorte, således at det resulterende træ er et lovligt rød-sort træ.



Svar: _____

Opgave 13 (4%)

Tegn hvordan nedenstående rød-sort træ (dobbeltcirkler angiver røde knuder) ser ud efter indsættelse af elementet 5.



Svar: _____

Opgave 14 (4%)

Tegn en hashtabel hvor der anvendes kædede lister til at håndtere kollisioner, når hash-funktionen er $h(k) = 5k \bmod 7$ og der indsættes elementerne 3, 1, 4, 8, 6, 11, og 2 i den givne rækkefølge.

Svar: _____

Opgave 15 (4%)

Tegn hvordan en hashtabel der anvender *linear probing* ser ud efter at elementerne 9, 7, 2, 5, og 3 indsættes i den givne rækkefølge, når hashfunktionen er $h(k) = 3k \bmod 7$.

| | | | | | | |
|----------------------|----------------------|----------------------|----------------------|----------------------|----------------------|----------------------|
| 0 | 1 | 2 | 3 | 4 | 5 | 6 |
| <input type="text"/> | <input type="text"/> | <input type="text"/> | <input type="text"/> | <input type="text"/> | <input type="text"/> | <input type="text"/> |

Svar: _____

Opgave 16 (4%)

Tegn hvordan en hashtabel der anvender *dobbelt hashing* ser ud efter at elementerne 7, 1, 2, 0, og 11 indsættes i den givne rækkefølge, når hashfunktionerne er $h_1(k) = 3k \bmod 11$, $h_2(k) = 1 + (2k \bmod 5)$, og hastabellen har størrelse 7.

| | | | | | | |
|----------------------|----------------------|----------------------|----------------------|----------------------|----------------------|----------------------|
| 0 | 1 | 2 | 3 | 4 | 5 | 6 |
| <input type="text"/> | <input type="text"/> | <input type="text"/> | <input type="text"/> | <input type="text"/> | <input type="text"/> | <input type="text"/> |

Svar: _____

Opgave 17 (4%)

Angiv den resulterende union-find struktur efter nedenstående sekvens af operationer, når der anvendes union-by-rank og stikomprimering. Angiv for hver knude rangen af knuden.

makeset(a)
makeset(b)
makeset(c)
makeset(d)
makeset(e)
makeset(f)
union(a, b)
union(c, d)
union(a, c)
union(b, e)
union(a, f)

Svar: _____

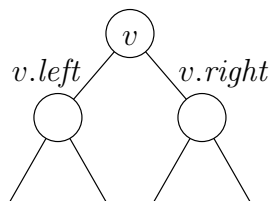
Opgave 18 (4%)

Betragt en liste af n par $(x_1, w_1), \dots, (x_n, w_n)$, hvor x_i og w_i er reelle tal og $x_1 < x_2 < \dots < x_n$. For $1 \leq k \leq n$ udgør $(x_1, w_1), \dots, (x_k, w_k)$ et præfiks af listen, og vi definerer vægten af præfikset til at være $w_1 + \dots + w_k$. Vi ønsker at vedligeholde den maksimale præfiksvægt for listen, dvs. maksimum taget over alle præfiksernes vægt.

F.eks. har listen $(1, 4), (2, -3), (5, 8), (7, -2)$ maksimal præfiksvægt $4 + (-3) + 8 = 9$.

Betragt et søgetræ hvor hver knude v gemmer et par $v.x$ og $v.w$, og knuderne er ordnet venstre-mod-højre efter stigende $v.x$. Derudover gemmes i v også $v.sum$ og $v.maxp$, som er hhv. summen af alle vægtene i v 's undertræ, og den maksimale præfiksvægt af dellisten gemt i v 's undertræ.

Angiv hvorledes disse værdier kan beregnes når den tilsvarende information er kendt ved de to børn $v.left$ og $v.right$ (det kan antages at disse begge eksisterer).



Svar $v.sum$ = _____

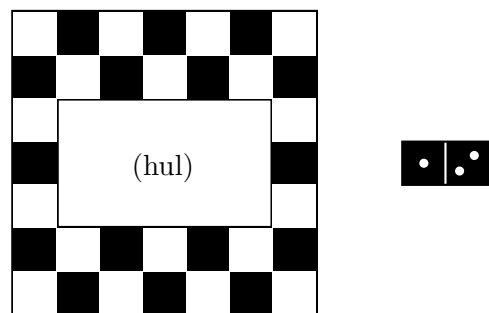
Svar $v.maxp$ = _____

Opgave 19 (4%)

Betragt højrestående 7×7 skakbræt med et 3×5 hul. Vi ønsker at dække de resterende 34 felter med dominobrikker.

For at bevise at skakbrættet ikke kan dækkes med dominobrikker, betragter vi følgende transitionssystem, der indfanger antallet af ikke-dækkede sorte (s) og hvide (h) felter:

$$[s, h] \triangleright [s - 1, h - 1]$$



Angiv en invariant, hvorfra det følger at de 34 felter ikke kan dækkes med dominobrikker.

Invariant: _____

Transitionssystem GCD

Konfigurationer: $\{[m, n] \mid \text{heltal } m, n \wedge m \geq 0 \wedge n \geq 0 \wedge m+n \geq 1\}$

$[m, n] \triangleright [n, m]$ **if** $m < n$

$[m, n] \triangleright [m - n, n]$ **if** $m \geq n \wedge n > 0$

Opgave 20 (4%)

For hvert af nedenstående udsagn, angiv om de er en invariant for ovenstående transitionssystem GCD. Startkonfigurationen antages at være $[n_0, m_0]$, hvor $n_0 \geq 1$ og $m_0 \geq 1$. I det følgende betegner $\text{gcd}(x, y)$ den største fælles divisor i to heltal x og y .

| | Ja | Nej |
|---|--------------------------|--------------------------|
| $n \neq 0$ | <input type="checkbox"/> | <input type="checkbox"/> |
| $\text{gcd}(m, n) = \text{gcd}(m_0, n_0)$ | <input type="checkbox"/> | <input type="checkbox"/> |
| $m + n = m_0 + n_0$ | <input type="checkbox"/> | <input type="checkbox"/> |
| $m + n \geq 1$ | <input type="checkbox"/> | <input type="checkbox"/> |
| $m \cdot n \geq \text{gcd}(m_0, n_0)$ | <input type="checkbox"/> | <input type="checkbox"/> |

Opgave 21 (4%)

For hver af nedenstående funktioner, angiv om de er en termineringsfunktion for ovenstående transitionssystem GCD.

| | Ja | Nej |
|----------------------|--------------------------|--------------------------|
| $\mu(m, n) = m + n$ | <input type="checkbox"/> | <input type="checkbox"/> |
| $\mu(m, n) = 2m + n$ | <input type="checkbox"/> | <input type="checkbox"/> |
| $\mu(m, n) = m + 2n$ | <input type="checkbox"/> | <input type="checkbox"/> |
| $\mu(m, n) = m$ | <input type="checkbox"/> | <input type="checkbox"/> |
| $\mu(m, n) = 2n - m$ | <input type="checkbox"/> | <input type="checkbox"/> |

Hvis et array $A[1..n]$ indeholder et element $A[j]$, der forekommer flere end $n/2$ gange i A , så siges $A[j]$ at være et *majoritetselement*.

Algoritme Majoritet($A[1..n]$)

Inputbetingelse : Array $A[1..n]$ med n heltal, hvor $n \geq 1$ og
ét tal forekommer $> n/2$ gange i A

Outputkrav : j , hvor $A[j]$ er majoritetselementet

Metode : $i \leftarrow 1$;
 $j \leftarrow 1$;
 $c \leftarrow 1$;
{ I } **while** $i < n$ **do**
 $i \leftarrow i + 1$;
 if $c = 0$ **then**
 $j \leftarrow i$;
 $c \leftarrow 1$
 else if $A[i] = A[j]$ **then**
 $c \leftarrow c + 1$
 else
 $c \leftarrow c - 1$

Opgave 22 (4%)

For hvert af nedenstående udsagn, angiv om de er en invariant I for ovenstående algoritme Majoritet. For $1 \leq k \leq i$, lad $\text{count}(k, i)$ betegne antal forekomster af $A[k]$ i $A[1..i]$, dvs. $\text{count}(k, i) = |\{\ell \mid 1 \leq \ell \leq i \wedge A[\ell] = A[k]\}|$.

| | Ja | Nej |
|--|--------------------------|--------------------------|
| $c = \text{count}(j, i)$ | <input type="checkbox"/> | <input type="checkbox"/> |
| $c \leq \text{count}(j, i)$ | <input type="checkbox"/> | <input type="checkbox"/> |
| $c = i - j$ | <input type="checkbox"/> | <input type="checkbox"/> |
| $2 \cdot \text{count}(k, i) + c \leq i$, for $A[k] \neq A[j]$ | <input type="checkbox"/> | <input type="checkbox"/> |
| $2 \cdot \text{count}(j, i) - c \leq i$ | <input type="checkbox"/> | <input type="checkbox"/> |

Opgave 23 (4%)

For hver af nedenstående funktioner, angiv om de er en termineringsfunktion for ovenstående algoritme Majoritet.

| | Ja | Nej |
|----------------------------------|--------------------------|--------------------------|
| $\mu(n, i, j, c) = i$ | <input type="checkbox"/> | <input type="checkbox"/> |
| $\mu(n, i, j, c) = n - i - c$ | <input type="checkbox"/> | <input type="checkbox"/> |
| $\mu(n, i, j, c) = n - i$ | <input type="checkbox"/> | <input type="checkbox"/> |
| $\mu(n, i, j, c) = i - j$ | <input type="checkbox"/> | <input type="checkbox"/> |
| $\mu(n, i, j, c) = 2(n - i) - c$ | <input type="checkbox"/> | <input type="checkbox"/> |

Opgave 24 (4%)

Nedenstående algoritme er en variation af binær søgning efter et element x i et sorteret array $A[1..n]$, hvor man ikke nødvendigvis vælger det midterste element i et delarray $A[L..H]$ at sammenligne x med, men vælger et $A[m]$ afhængig om værdien af x ligger tættest på $A[L]$ eller $A[H]$. For at vise gyldigheden af algoritmen skal $I_{L,H}$ og I_A være invarianter omkring variablerne L og H , og sammenhængen med A . Angiv invarianter hvormed gyldigheden af algoritmen kan bevises (bevis for invarianterne kræves ikke).

Algoritme InterpolationSearch($A[1..n], x$)

Inputbetingelse : Sorteret array $A[1..n]$ med n heltal og et heltal x , hvor $n \geq 1$

Outputkrav : r , hvor $r = -1$ hvis $x \notin A$, ellers $A[r] = x$

Metode : $r \leftarrow -1$;

$L \leftarrow 1$;

$H \leftarrow n$;

$\{I\}$ **while** $r = -1 \wedge L \leq H$ **do**

$m \leftarrow \min \left\{ H, \max \left\{ L, L + \left\lfloor \frac{(x-A[L])(H-L)}{A[H]-A[L]} \right\rfloor \right\} \right\}$;

if $x = A[m]$ **then**

$r \leftarrow m$

else if $x < A[m]$ **then**

$H \leftarrow m - 1$

else

$L \leftarrow m + 1$

Svar $I_{L,H}$: _____

Svar I_A : _____

For at kunne bevise at algoritmen terminerer, kræves en passende termineringsfunktion. Angiv en termineringsfunktion (bevis for at termineringsfunktionen har de nødvendige egenskaber kræves ikke).

Svar μ : _____

Opgave 25 (4%)

Antag at en binær max-heap med n elementer er gemt i de første n indgange i et array af størrelsen N . Operationerne INSERT og EXTRACT-MAX implementeres som for en standard binær max-heap, på nær INSERT når $n = N$, hvor heapen først kopieres over i et nyt array af dobbelt størrelse $2N$, dvs. N fordobles, hvorefter INSERT operationen udføres som for en standard binær max-heap. Med en passende potentialefunktion kan man argumentere for at INSERT tager amortiseret $O(\log n)$ tid og EXTRACT-MAX tager amortiseret $O(1)$ tid. Angiv en sådan potentialefunktion.

Svar $\Phi =$ _____